



PEMERINTAH KABUPATEN KEDIRI
DINAS PENDIDIKAN
UPTD SMP NEGERI 2 TAROKAN
PENILAIAN AKHIR TAHUN (PAT)
TAHUN PELAJARAN 2021 / 2022

PETUNJUK UMUM

1. Periksa Naskah Soal yang Anda terima sebelum mengerjakan soal yang meliputi :
 - a. Kelengkapan jumlah halaman dan urutannya.
 - b. Kelengkapan nomor soal dan urutannya.
 - c. Kesesuaian Mata Pelajaran yang di ujikan dengan Mata Pelajaran yang tertera pada Naskah maupun Lembar Jawab.
 - d. Jumlah soal setiap mapel 40 soal, terdiri PG 15 soal, PGK 10 soal, BS 5 soal, menjodohkan 5 soal, Uraian 5 Soal kecuali IPA dan MATEMATIKA 30 soal, terdiri PG 10 soal, PGK 5 soal, BS 5 soal, menjodohkan 5 soal, Uraian 5 soal.
2. Laporkan Kepada pegawai ruang apabila terdapat naskah soal yang tidak lengkap, tidak urut, Lembar Jawaban yang rusak dan minta gantinya!
3. Gunakan pensil 2B untuk mengisi lembar jawaban dengan ketentuan sebagai berikut :
 - a. Tuliskan Nama Anda pada kolom yang disediakan.
 - b. Tuliskan Nomor Peserta PENILAIAN AKHIR TAHUN pada kolom yang disediakan!
 - c. Tuliskan Kelas / No. Presensi, pada kolom yang disediakan!
 - d. Tulislah Nama Sekolah pada kolom yang disediakan!
4. Jika terjadi kesalahan dalam memberi tanda silang (x) atau centang (✓), hapus sebersih mungkin dengan karet penghapus kemudian diganti yang menurut anda benar.
5. Saat mengikuti PAT dilarang membawa dan menggunakan HP, Kalkulator, Tabel, maupun alat bantu hitung lainnya.
6. Periksa kembali pekerjaan Anda sebelum diserahkan pengawas ujian!
7. Lembar Jawaban tidak boleh dicorat – coret.
8. Berdo'alah sebelum mengerjakan soal!
9. Kerjakan dengan jujur, karena kejujuran adalah cermin akhlaq mulia!
10. Gunakan waktu yang terjadwal dengan sebaik-baiknya agar diperoleh hasil yang maksimal!

SELAMAT MENGERJAKAN SEMOGA SUKSES



PEMERINTAH KABUPATEN KEDIRI
DINAS PENDIDIKAN
UPTD SMP NEGERI
PENILAIAN AKHIR TAHUN (PAT)
TAHUN PELAJARAN 2021/2022

Mata Pelajaran : Seni Budaya
Kelas/Semester : VII / 2

Hari, Tanggal : Senin, 6 Juni 2022
Waktu : 90 menit

I. PILIHAN GANDA

(Pilihlah satu jawaban yang paling benar!)

1. Bahan tekstil yang berkualitas dapat diperoleh dari bahan alami dan bahan buatan. Bahan pembentuk tekstil ini biasanya berupa serat-serat yang disatukan hingga membentuk benang dasar. Serat tekstil alami bisa dihasilkan dari manapun, salah satunya dari hewan. Yang merupakan serat hewan, seperti ...
 - A. kapas
 - B. rayon
 - C. wol
 - D. polyester
2. Berkembangnya ilmu pengetahuan dan teknologi saat ini, membuat perkembangan bahan tekstil pun semakin pesat. Sehingga, permintaan konsumen yang meningkat dapat diatasi. Jika diperhatikan, hal ini disebabkan oleh adanya ...
 - A. Bahan yang mudah didapat
 - B. Harga yang mahal
 - C. Tren dan mode
 - D. Selera
3. Andrew adalah salah satu mahasiswa asing yang belajar budaya Indonesia melalui pertukaran pelajar tingkat Internasional. Dia sangat tertarik dengan keunikan ragam ukiran khas jepara. Apabila Andrew ingin belajar mengukir kayu khas Jepara, langkah pertama yang harus dilakukan Andrew adalah ...
 - A. Menentukan warna
 - B. Menyiapkan alat dan bahan untuk membuat sketsa
 - C. Memilih gaya
 - D. Menentukan harga
4. Alat pada gambar di bawah ini digunakan dalam membuat ragam hias pada bahan kayu yang berfungsi untuk
 - A. mengukir
 - B. memahat
 - C. menggores
 - D. memukul



5. Penggunaan alat pahat dalam pembuatan ragam hias pada kayu harus disesuaikan dengan bentuk ragam hias yang akan diukir. Salah satu alat yang penting saat membuat kerajinan kayu adalah Pahat Kol. Alat ini dipakai saat mengerjakan ...
- Siku-siku ukiran
 - Bagian cekungan yang tak terjangkau pahat kuku
 - Sudut ukiran
 - Bagian yang melingkar

6. Perhatikan gambar berikut ini:



Gambar di samping merupakan contoh ragam hias dengan media kayu yang berasal dari daerah...

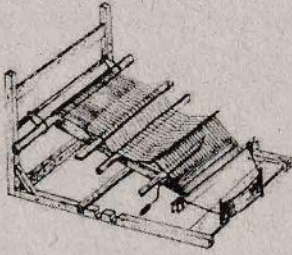
- Bali
 - Yogyakarta
 - Kalimantan
 - Papua
7. Berikut adalah penerapan ragam hias pada tekstil
- 1) Siapkan gambar rancangan
 - 2) Selesaikan gambar rancangan dan warnai gambar
 - 3) keringkan hasil gambar ragam hias
 - 4) pindahkan gambar rancangan
 - 5) Siapkan kaos oblong dan berilah karton/tripleks
- Langkah-langkah yang benar dari penerapan diatas adalah
- 1,2,3,4,5
 - 1,3,5,4,2
 - 1,5,2,4,3
 - 1,5,4,2,3

8. Gambar dibawah adalah contoh ragam hias ...



- Flora
 - Figuratif
 - Fauna
 - Geometris
9. Tidak ada kain yang sifat atau karakteristiknya mencapai nilai sempurna. Kekurangan dari jenis kain ini beberapa diantaranya, yaitu: Tidak cocok digunakan di negara dengan iklim tropis, Kainnya yang berat, Noda yang menempel cenderung sulit dibersihkan. Ini merupakan ciri-ciri kain
- katun
 - wol
 - sutera
 - polyester

10. Gambar dibawah ini merupakan alat . . .



- A. Batik
- B. tenun
- C. lukis
- D. sulam

11. Menyanyi merupakan aktivitas yang sering dilakukan oleh manusia. Melalui aktivitas ini manusia dapat mengungkapkan perasaan melalui nada dan irama serta kata-kata. Ada yang menyanyi dilakukan secara unisono tetapi ada juga yang dilakukan dengan membentuk vocal group. Pernyataan dibawah ini yang merupakan perbedaan bernyanyi secara unisono dengan vocal group adalah....

- A. Bernyanyi unisono beranggotakan lebih dari satu orang sedangkan vocal group lebih dari tiga orang.
- B. Bernyanyi unisono pembagian suara lebih dari satu sedangkan vocal group hanya satu suara saja.
- C. Bernyanyi unisono dilakukan seorang diri sedangkan vocal group berkelompok
- D. Bernyanyi unisono hanya satu suara/melodi pokoknya saja sedangkan vocal group pembagian suara lebih dari satu suara.

12. Perhatikan pernyataan berikut ini :

- a) *Dinyayikan dengan berkelompok*
- b) *Menggunakan melodi pokok saja*
- c) *Terdapat pembagian suara satu dan dua*
- d) *Dinyanyikan secara tunggal*

Berdasarkan data diatas, manakah yang termasuk ciri-ciri bernyanyi lebih dari satu suara..

- A. a dan b
- B. b dan c
- C. a dan c
- D. c dan d

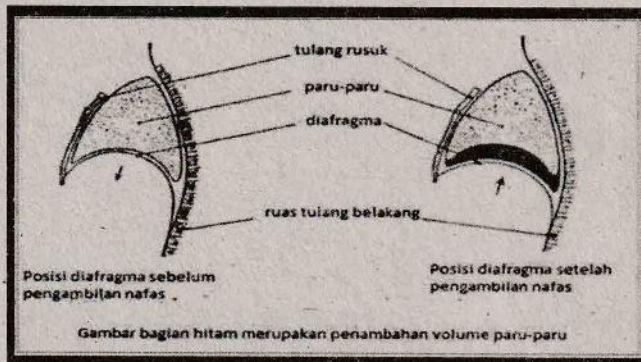
13. Pada Kegiatan Tengah Semester, siswa kelas VII A yang berjumlah 36 siswa akan menampilkan bernyanyi lebih dari satu suara. Guru akan membagi kelompok kecil secara acak dan rata untuk menyajikan bernyanyi secara Canon, Akapella dan Nasyid. Berapakah masing-masing jumlah anggota dalam kelompok tersebut ?

- A. 15
- B. 14
- C. 13
- D. 12

14. Pada saat bulan Ramadhan kita sering melihat sajian hiburan yang bersifat religius, mulai dari tausiah/ceramah islami, cerita sejarah islam maupun penampilan kelompok vocal yang biasanya menampilkan nyanyian yang mengandung kata-kata nasihat dan kisah para nabi. Penyajian kelompok vocal tersebut termasuk dalam jenis....

- A. Akapela
- B. Nasyid
- C. Paduan Suara
- D. Vokal Group

15. Perhatikan gambar berikut!



Pernapasan ini memungkinkan untuk dapat mengatur keluar masuknya udara sesuai dengan napas yang kita inginkan dan berpengaruh pada Teknik bernyanyi baik secara tunggal maupun berkelompok.

Yang dapat disimpulkan pada gambar pernapasan diatas adalah....

- A. Kualitas suara menjadi stabil karena pengaturan udara tersimpan pada sekat rongga dada sehingga penggunaan napas menjadi efektif
- B. Kualitas suara tidak stabil karena pengaturan udara terbatas
- C. Kualitas suara stabil tetapi dalam pemenggalan kalimat lagu tidak sempurna
- D. Kualitas suara kurang stabil karena tidak dapat mengatur keluar masuknya udara dengan baik.

II. PILIHAN GANDA KOMPLEKS (Pilihlah 2 Jawaban Yang Paling Benar)

16. Perhatikan ciri-ciri serat tekstil berikut ini:

- 1) menyerap air
- 2) mudah kusut
- 3) licin
- 4) lembut
- 5) dapat disetrika dengan panas yang tinggi
- 6) nyaman dipakai

Ciri-ciri bahan tekstil dari katun ditunjukkan oleh nomor:

- A. (1),(2) dan (3)
- B. (1),(2) dan (4)
- C. (1),(2) dan (5)
- D. (1),(2) dan (6)

17. Pegiat dunia fashion tanah air saat ini tengah sangat gencar mengampanyekan konsep fashion berkelanjutan atau ramah lingkungan. Salah satu hal yang dapat mendukung terciptanya fashion berkelanjutan ialah pemanfaatan bahan-bahan alami. Contoh jenis pewarna tekstil yang berasal dari alam adalah...

- A. Naptol
- B. Kesumba
- C. Soga
- D. Indigosol

18. Dalam kerajinan tekstil, tingkat kekuatan benang dan tali berbeda. Hal ini disebabkan oleh ...

- A. bentuk keduanya yang tidak sama
- B. Bahan yang digunakan berbeda
- C. Harga yang berbeda drastis
- D. Bahan yang digunakan tidak sama

19. Alat pada gambar dibawah ini digunakan dalam membuat ragam hias pada bahan kayu yang berfungsi untuk . .



- A. mengukir
- B. Menggores
- C. Memahat
- D. Memukul

20. Berbagai cara dan teknik bisa digunakan untuk membuat ragam hias pada bahan tekstil yang berkualitas. Teknik pembuatan ragam hias disamping adalah dengan cara



- A. membatik
- B. menenun
- C. menyulam
- D. printing

21. Kayu adalah bahan yang sering dipakai dalam pembuatan baik karya seni hias atau terapan. Karya seni terapan berbahan kayu umumnya digunakan untuk perabotan seperti meja, kursi, lemari, pintu, dan sebagainya. Sedangkan seni hias biasanya diterapkan pada barang-barang tersebut untuk menambah nilai estetika. Untuk menghias perabotan berbahan kayu tersebut biasa digunakan dengan teknik....

- A. mengukir
- B. menenun
- C. melukis
- D. membutsir

22. Perhatikan gambar berikut ini !

Penampilan dalam menyanyi selain dilakukan secara individu dapat juga dilakukan secara vokal group. Penampilan vokal grup memerlukan kerja sama baik sehingga penampilan dapat dilakukan secara maksimal. Perhatikan beberapa gambar dibawah ini, manakah yang termasuk penyajian vokal group....



23. Perhatikan pernyataan berikut ini:

- Kekuatan pernafasan sangat berguna ketika kita menyanyi.
- Kekuatan pernafasan dapat dilatih dengan latihan vocal.
- Menyanyi yang kurang baik karena tidak pernah olah vocal.
- Menyanyi harus diiringi dengan musik.

Berdasarkan hal tersebut, apa yang akan kalian lakukan jika mendapat tugas menyanyi paduan suara dengan kelompok kalian?

- A. Jalani apa adanya hingga hari pentas tiba
- B. Melatih kekompakan
- C. Sering latihan vocal Bersama
- D. Menjaga kebugaran agar menyanyinya sukses

24. Serat buatan merupakan serat yang molekulnya disusun secara sengaja oleh manusia. Sifat-sifat umum dari serat buatan adalah kuat dan tahan gesekan. Serat buatan dapat diproduksi secara murah dalam jumlah yang besar. Contoh serat buatan antara lain:
- katun
 - dakron
 - wol
 - nilon
25. Latihan bernyanyi dengan pembagian tiga suara adalah bernyanyi dengan membagi dalam tiga kelompok suara. Untuk mendapatkan keseimbangan suara, dalam pembagiannya dapat dibagi sesuai dengan jumlah dari anggota tersebut. Misalnya melodi suara pertama dinyanyikan oleh kelompok perempuan dengan suara tinggi, kelompok kedua oleh kelompok perempuan dengan suara rendah, kelompok ketiga oleh kelompok laki-laki.
- Jika dalam kelompok tersebut siswa perempuan lebih sedikit, maka pembagiannya adalah sebagai berikut....
- melodi suara satu dinyanyikan oleh kelompok perempuan, suara kedua oleh laki-laki dengan suara tinggi, kelompok tiga oleh laki-laki dengan suara rendah
 - melodi suara satu, dua dan tiga dinyanyikan semua kelompok laki-laki
 - melodi suara satu dinyanyikan kelompok laki-laki, suara kedua oleh perempuan suara tinggi, suara tiga kelompok suara perempuan rendah
 - melodi suara kedua dan ketiga dinyanyikan oleh kelompok laki-laki, melodi suara satu suara perempuan.

III. Jawablah pernyataan dibawah ini dengan menyatakan B jika Benar dan S jika Salah

26. B – S Bahan pewarna buatan memiliki sifat tahan terhadap sinar matahari dan mudah luntur.
27. B – S Setelah menggambar sketsa pada bidang ragam hias kayu, kemudian masuk pada proses selanjutnya adalah pewarnaan. Merupakan langkah-langkah membuat ragam hias kayu dengan teknik mengukir



Menyanyi dengan Lebih Satu Suara

Dalam sebuah kelompok bernyanyi, selain membutuhkan kekompakan diharapkan untuk melatih kualitas suara yang baik dengan berlatih teknik vocal secara rutin. Salah satu tujuan latihan olah vocal adalah mendapatkan kekuatan pernafasan. Kekuatan pernafasan sangat berguna agar kita tidak cepat kehabisan nafas saat kita menyanyikan lagu lagu yang memiliki jangkauan nada yang panjang. Pernafasan dalam Teknik vocal dikelompokkan menjadi tiga yaitu Pernafasan dada, pernafasan perut, dan pernafasan diafragma. Pernafasan dalam bernyanyi merupakan upaya mengambil udara sebanyak-banyaknya, kemudian disimpan dalam paru-paru, dan pengeluarannya dilakukan sedikit demi sedikit sesuai dengan keperluan nafas pada saat bernyanyi.

Berdasarkan teks tersebut, tentukan pernyataan berikut benar atau salah!

28. B – S Teknik pernafasan yang dilakukan dengan mengambil udara sebanyak-banyaknya kemudian disimpan di dada disebut pernafasan Dada
29. B – S Teknik pernafasan yang benar hanya dapat digunakan pada bernyanyi tunggal saja.
30. B – S Latihan olah vocal dapat membuat suara menjadi jernih.

IV. Jodohkanlah pernyataan dibawah ini dengan memilih opsi jawaban yang sesuai disebelah kanan!

No	Soal/Pernyataan	Opsi Jawaban
31.	 Teknik pembuatan ragam hias di samping dengan...	A. Melukis B. Katun. C. Wol
32	Gambar berikut merupakan ragam hias pada tameng dari daerah... 	D. Sutera E. Olah vokal F. Papua
33	Lentur, mudah menyerap air dan nyaman dipakai adalah ciri kain jenis....	G. Unisono H. manfaat Vokal grup
34	Dalam penyajian kelompok vokal, agar mutu suara bagus sebaiknya dilakukan....	I. Bali
35. adalah menghasilkan harmonisasi suara dan lagu agar terdengar lebih indah karena terdapat banyak variasi dan kekuatan suara.	J. Mengukir

V. URAIAN SINGKAT!

36. Layaknya suku-suku yang ada di nusantara, masyarakat Baduy yang tinggal di Desa Kenekes juga memiliki tradisi dan adat istiadat yang diturunkan oleh nenek moyang mereka. Salah satu tradisi itu adalah menyatukan benang untuk dijadikan kain. Kegiatan itu bagi Suku Baduy merupakan kegiatan yang dilakukan oleh kaum wanita. Umumnya sejak usia dini mereka diajarkan bagaimana cara untuk membuat kain. Teknik menyatukan benang menjadi kain yang dilakukan suku Baduy tersebut biasa disebut dengan....
37. Sebelum masuk pada proses ukir, kayu terlebih dahulu di agar memudahkan proses pembuatannya.
38. Susunan pola hias menggunakan motif hias dengan cara dan kaidah tertentu pada suatu ruang atau bidang sehingga menghasilkan bentuk yang menarik dan indah disebut....

Perhatikan pernyataan berikut!

Kelas 7J melaksanakan pembelajaran seni budaya materi Bab 11 tentang bernyanyi lebih dari satu suara. Setelah menjelaskan materi, Bu Diana menuliskan lirik lagu sebagai berikut:

*Pada hari minggu ku turut ayah ke kota
Naik delman istimewa ku duduk di muka
Ku duduk samping pak kusir yang sedang bekerja
Mengendarai kuda supaya baik jalannya
Tuk tik tak tik tuk tik tak tik tuk tik tak tik tuk
Tuk tik tak tik tuk tik tak suara sepatu kuda*

Kemudian Bu Diana membentuk 2 kelompok besar dalam satu kelas. Kelompok 1 diminta untuk bernyanyi terlebih dahulu. Kemudian kelompok 2 memulai bernyanyi Ketika kelompok 1 sudah menyanyikan pada lirik baris pertama. Kelompok tersebut terus menyanyikan secara berulang secara bersaut-sautan.

39. Dengan bentuk pembagian bernyanyi seperti teknik yang disampaikan bu Diana merupakan bernyanyi banyak suara dengan jenis...
40. Ketika kelompok 1 menyanyikan lirik lagu baris ke empat maka kelompok 2 menyanyikan lirik lagu pada baris ke...