



**PEMERINTAH KABUPATEN KEDIRI**  
**DINAS PENDIDIKAN**  
**UPTD SMP NEGERI 2 TAROKAN**  
**PENILAIAN AKHIR TAHUN (PAT)**  
**TAHUN PELAJARAN 2021 / 2022**

**PETUNJUK UMUM**

1. Periksa Naskah Soal yang Anda terima sebelum mengerjakan soal yang meliputi :
  - a. Kelengkapan jumlah halaman dan urutannya.
  - b. Kelengkapan nomor soal dan urutannya.
  - c. Kesesuaian Mata Pelajaran yang di ujikan dengan Mata Pelajaran yang tertera pada Naskah maupun Lembar Jawab.
  - d. Jumlah soal setiap mapel 40 soal, terdiri PG 15 soal, PGK 10 soal, BS 5 soal, menjodohkan 5 soal, Uraian 5 Soal kecuali IPA dan MATEMATIKA 30 soal, terdiri PG 10 soal, PGK 5 soal, BS 5 soal, menjodohkan 5 soal, Uraian 5 soal.
2. Laporkan Kepada pegawai ruang apabila terdapat naskah soal yang tidak lengkap, tidak urut, Lembar Jawaban yang rusak dan minta gantinya!
3. Gunakan pensil 2B untuk mengisi lembar jawaban dengan ketentuan sebagai berikut :
  - a. Tuliskan Nama Anda pada kolom yang disediakan.
  - b. Tuliskan Nomor Peserta PENILAIAN AKHIR TAHUN pada kolom yang disediakan!
  - c. Tuliskan Kelas / No. Presensi, pada kolom yang disediakan!
  - d. Tulislah Nama Sekolah pada kolom yang disediakan!
4. Jika terjadi kesalahan dalam memberi tanda silang (x) atau centang (✓), hapus sebersih mungkin dengan karet penghapus kemudian diganti yang menurut anda benar.
5. Saat mengikuti PAT dilarang membawa dan menggunakan HP, Kalkulator, Tabel, maupun alat bantu hitung lainnya.
6. Periksa kembali pekerjaan Anda sebelum diserahkan pengawas ujian!
7. Lembar Jawaban tidak boleh dicorat – coret.
8. Berdo'alah sebelum mengerjakan soal!
9. Kerjakan dengan jujur, karena kejujuran adalah cermin akhlaq mulia!
10. Gunakan waktu yang terjadwal dengan sebaik-baiknya agar diperoleh hasil yang maksimal!

SELAMAT MENGERJAKAN SEMOGA SUKSES



**PEMERINTAH KABUPATEN KEDIRI**  
**DINAS PENDIDIKAN**  
**UPTD SMP NEGERI**  
**PENILAIAN AKHIR TAHUN (PAT)**  
**TAHUN PELAJARAN 2021/2022**

Mata Pelajaran : PPKn  
Kelas/Semester : VII / 2

Hari, Tanggal : Sabtu, 11 Juni 2022  
Waktu : 90 menit

**I. Soal Pilihan Ganda**

**Petunjuk:**

Pilihlah satu jawaban yang paling benar dengan cara memberi tanda silang (X) pada huruf A, B, C, atau D dilembar jawaban yang telah disediakan!

1. Bangsa Indonesia sebagai negara kepulauan didiami oleh masyarakat yang memiliki budaya, suku bangsa, bahasa, mata pencaharian, adat istiadat dan ras yang beraneka ragam. Kondisi masyarakat Indonesia yang berbeda-beda tersebut merupakan bukti realitas dari....
  - A. kesamaan
  - B. persamaan
  - C. keseragaman
  - D. keberagaman

2. Cermati gambar di bawah ini!




Sumber: <https://navigasibisnis.com/>

Dari gambar di atas menunjukkan bahwa masyarakat Indonesia memiliki keberagaman ....

- A. ras
  - B. suku
  - C. agama
  - D. antar golongan
3. Perhatikan pernyataan berikut!
    - (1) perbedaan bahasa
    - (2) perbedaan suku bangsa
    - (3) perbedaan makanan pokok
    - (4) perbedaan mata pencaharianManakah dari pernyataan di atas yang merupakan akibat dari perbedaan kondisi alam?
    - A. (1) dan (2)
    - B. (1) dan (3)
    - C. (2) dan (4)
    - D. (3) dan (4)

4. Perhatikan gambar dibawah ini!



Sumber: <https://konten.smpn2ppu.sch.id/>

Gambar diatas menunjukkan adanya perbedaan penggunaan teknologi dalam membajak sawah. Petani di daerah A memilih untuk menggunakan mesin traktor agar pekerjaan lebih mudah, sedangkan petani di daerah B memilih tetap menggunakan cara tradisional untuk melestarikan adat yang ada didaerahnya. Hal ini menjadi salah satu faktor yang mempengaruhi keberagaman masyarakat Indonesia dalam kehidupan sehari-hari.

Terjadinya keberagaman sebagaimana tampak pada gambar disebabkan oleh faktor....


- A. Perbedaan kondisi alam
  - B. Kondisi negara kepulauan
  - C. Keadaan transportasi dan komunikasi
  - D. Penerimaan masyarakat terhadap perubahan
5. Bangsa Indonesia terletak antara dua samudra yaitu samudra Pasifik dan samudra Hindia serta dua benua yaitu benua Asia dan benua Australia. Letak strategis wilayah Indonesia mengakibatkan Indonesia dijadikan sebagai jalur perdagangan internasional. Kedatangan para pedagang asing yang memilih menetap di Indonesia bukan hanya membawa barang dagangan tetapi juga membawa pengaruh terhadap keberagaman budaya, ras, agama dan bahasa.

Dari pernyataan di atas, keberagaman budaya, ras dan bahasa disebabkan faktor....

- A. Letak wilayah strategis Indonesia
- B. Indonesia menjadi jalur perdagangan
- C. Pemerintah memberi kebebasan para pedagang untuk menetap
- D. Letak wilayah Indonesia berada antara samudra Pasifik dan Hindia

6. Perhatikan gambar di bawah ini!

Dalam mengambil sebuah keputusan Pak Ogah selaku ketua RT 09 Sukamaju selalu



melaksanakan segala aktifitas berdasarkan landasan kehidupan sosial politik masyarakat Indonesia yaitu Pancasila sila keempat. Hal ini dilakukan agar keputusan yang diambil merupakan wujud dari tujuan bersama.

Aktifitas berdasarkan gambar di samping adalah...

- A. Koalisi
- B. Kerjasama
- C. Kampanye Desa
- D. Musyawarah Mufakat

7. Kerja sama merupakan kegiatan atau usaha yang dilakukan dua orang atau lebih untuk mencapai tujuan Bersama. Semangat kerja sama dalam kehidupan di masyarakat terwujud dalam berbagai kegiatan yang sesuai dengan kehidupan budaya daerah.  
Kerja sama yang dilakukan sejumlah warga masyarakat untuk menyelesaikan tugas atau pekerjaan disebut...
- Koalisi
  - Siskamling
  - Musyawarah
  - Gotong royong
8. Perhatikan contoh berikut!
- Rembug Desa /Musyawarah Desa
  - Partisipasi masyarakat dalam PILKADES
  - Partisipasi masyarakat dalam kegiatan kerja bakti
  - Partisipasi masyarakat dalam kegiatan bersih desa
- Contoh perilaku kerjasama yang sesuai dengan sila keempat Pancasila sebagai landasan pada bidang sosial politik dalam kehidupan masyarakat ditunjukkan oleh nomor ....
- (1) dan (2)
  - (1) dan (3)
  - (2) dan (3)
  - (3) dan (4)
9. Negara Republik Indonesia menjamin hak kebebasan masyarakat untuk memeluk agama dan beribadah sesuai agama yang dianut. Hal ini tercantum dalam UUD Negara Republik Indonesai Tahun 1945 yang berbunyi “Negara menjamin kemerdekaan tiap-tiap penduduk untuk memeluk agamanya masing-masing dan beribadat menurut agama dan kepercayaanya itu.”  
Jaminan tersebut terdapat dalam UUD Negara Republik Indonesia Tahun 1945 ....
- pasal 29 ayat (1)
  - pasal 29 ayat (2)
  - pasal 30 ayat (1)
  - pasal 31 ayat (1)
10. Naya menolak bergabung dalam kelompok Yuda dan Yuki untuk menyelesaikan tugas kelompok karena dia merasa pekerjaan dirinya lebih baik daripada bekerjasama dengan teman-temannya.  
Perilaku yang ditunjukkan Naya merupakan contoh dari sikap....
- egoisme
  - individualis
  - eksklusivisme
  - primordialisme
11. Negara Indonesia memiliki enam agama yang diakui dan dilindungi oleh Negara. Dari keberagaman agama yang ada di Indonesia, masyarakat saling bekerja sama dan bersatu mengembangkan sikap toleransi agar dapat mewujudkan kehidupan yang rukun, aman, dan damai.  
Berikut ini yang merupakan contoh perilaku yang menunjukkan sikap kerjasama antar umat beragama adalah....

- A. Muhamad adi yang muslim mengajak ali temanya yang beragama lain untuk ikut kemasjid
- B. Margaretta yang beragama kristen mengajak mufidah yang beragama lain ikut kegiatan Natal
- C. Sekelompok anak muda punk mengadakan kegiatan pentas musik di pertigaan jalan kampung.
- D. Sekelompok BANSER ikut menjaga keamanan lingkungan pada saat ada kegiatan natal di sebuah gereja di kota Jakarta
12. Upaya mempertahankan keutuhan dan keamanan nasional tidak terlepas dari hambatan-hambatan yang dihadapi oleh Negara. Hambatan tersebut dapat berupa usaha atau kegiatan yang berasal dari dalam maupun luar negeri yang dapat membahayakan kedaulatan negara, keutuhan wilayah dan keselamatan bangsa.  
Berdasarkan pernyataan di atas, kata hambatan menunjukkan makna....
- A. Resiko
- B. Ancaman
- C. Perusakan
- D. Kejahatan
13. Ara merupakan siswi yang memiliki bakat menari. Ketika diminta untuk belajar tari Pendet yang berasal dari Bali, dia menolak karena merasa Tari Remo yang berasal dari daerahnya merupakan tari daerah terbaik dibandingkan tarian lainnya. Perilaku Ara merupakan perilaku yang tidak terpuji karena menganggap budaya yang berasal dari suku daerahnya lebih baik daripada budaya suku lainnya.  
Berdasarkan hal tersebut perilaku Ara merupakan bentuk sikap....
- A. egois
- B. fanatik
- C. etnosentrisme
- D. eksklusivisme
14. Perhatikan contoh berikut ini!
- (1) mengutamakan kepentingan kelompoknya
- (2) berteman dengan orang yang berbeda daerah
- (3) memilih teman yang berasal dari daerah yang sama
- (4) belajar kelompok dengan teman yang berbeda agama
- (5) memilih ketua kelas yang bertempat tinggal di daerah yang sama
- Dari pernyataan diatas yang menunjukkan bentuk sikap etnosentrisme ialah pada nomor....
- A. (1), (2) dan (3)
- B. (1), (3) dan (5)
- C. (2), (3) dan (4)
- D. (2), (4) dan (5)
15. Cermati isi berita dibawah ini!
- Dilansir dari TEMPO.CO, Jakarta - Sejumlah pekerja PT Palapa Timur Telematika (PTT) yang tengah memperbaiki Tower Base Transceiver Station (BTS) tewas akibat penembakan oleh kelompok kriminal bersenjata (KKB). Organisasi Papua Merdeka (OPM) mengaku bertanggung jawab atas penembakan yang terjadi di Kampung Kago, Distrik Ilaga, Puncak, Papua, pada Rabu, 2 Maret 2022 pukul 13.00 WIB. Penembakan itu menyebabkan 8 karyawan PT Palapa Timur Telematika (PTT) tewas. Penyebab pasti serangan terhadap

para karyawan Telkom ini masih didalami hanya saja situasi ketegangan memang sudah terasa beberapa waktu sebelum insiden brutal tersebut terjadi. Mereka melakukan tindakan tidak manusiawi ini dengan motivasi ketidakpercayaan terhadap pemerintah.

(Sumber: <https://kabarwonosobo.pikiran-rakyat.com/nasional/pr-1563917384/serangan-brutal-kelompok-kriminal-bersenjata-kkb-papua>).

Berdasarkan informasi di atas, potensi gangguan keamanan nasional dari dalam negeri tersebut adalah berupa....

- A. Kerusuhan sosial
- B. Perusakan lingkungan
- C. Gerakan separatis bersenjata
- D. Perusakan lingkungan oleh kelompok masyarakat

## II. Soal Pilihan Ganda Kompleks.

### Petunjuk:

- ☞ Jawablah soal di bawah ini (no: 16 sampai 25) dengan cara mencentang (✓) pada *dua kotak* huruf jawaban yang paling benar!
- ☞ Cermati stimulus di bagian atas soal sebelum menentukan jawaban.

### “Keberagaman Suku Bangsa di Indonesia”



KOMPAS.com- Sesuai dengan semboyan Republik Indonesia, yaitu Bhineka Tunggal Ika, keberagaman budaya, suku bangsa, ras, etnis, agama, dan bahasa daerah tetap menjadi satu kesatuan.

Berdasarkan sensus penduduk dari Badan Pusat Statistik pada 2010, Indonesia memiliki sekitar 1.340 suku bangsa. Di mana suku Jawa menjadi kelompok suku terbesar dengan populasi sebanyak 85,2 juta atau sekitar 40,2 persen dari populasi penduduk Indonesia. Suku Jawa ini terletak di Pulau Jawa bagian tengah hingga timur.

Terbesar kedua adalah Suku Sunda yang berasal dari Pulau Jawa bagian barat dengan jumlah mencapai 36,7 juta jiwa atau 15,5 persen. Suku Batak menyusul sebagai terbesar ketiga dengan jumlah mencapai 8,5 juta jiwa atau 3,6 persen yang berasal dari Pulau Sumatra bagian tengah utara. Terbesar ke empat adalah Suku asal Sulawesi selain Suku Makassar, Bugis, Minahasa dan Gorontalo. Jumlah terbesar keempat ini sendiri merupakan gabungan dari 208 jenis suku bangsa Sulawesi. Selanjutnya, terbesar kelima adalah Suku Madura.

Pembagian kelompok suku di Indonesia tidak mutlak dan tidak jelas. Hal ini akibat dari perpindahan penduduk, pencampuran budaya, dan saling memengaruhi.

Sumber: <https://www.kompas.com/skola/read/2020/03/20/120000169/keberagaman-suku-bangsa-di-indonesia?page=all>

16. Berdasarkan wacana di atas, suku Batak di Indonesia memiliki jumlah suku yang berada pada peringkat...
- A. Terbesar ketiga
  - B. Terbesar keempat
  - C. Terbesar setelah suku Sunda
  - D. Terbesar setelah suku Sulawesi
17. Berdasarkan wacana di atas, suku yang berasal dari Sulawesi adalah..
- A. Suku Bugis
  - B. Suku Batak
  - C. Suku Madura
  - D. Suku Minahasa
18. Berdasarkan wacana di atas, berapakah selisih populasi antara Suku Jawa dengan Suku Sunda?
- A. Lebih dari 25 juta jiwa
  - B. Lebih dari 45 juta jiwa
  - C. Kurang dari 30 juta jiwa
  - D. Kurang dari 50 juta jiwa

### “Pembagian Ras di Indonesia”

Menurut Afnan Fuadi dalam Buku Keragaman dalam Dinamika Sosial Budaya Kompetensi Sosial Kultural Perikat Bangsa (2020), ada empat kelompok pembagian ras di Indonesia, yakni Malayan-Mongoloid, Melanesoid, Asiatic Mongoloid, serta Kaukasoid.

#### **Ras Malayan-Mongoloid**

biasanya penduduk dengan ras Malayan-Mongoloid bertempat tinggal di Sumatera, Jawa, Bali, Nusa Tenggara Barat, Sulawesi, dan Kalimantan. Ciri utama dari ras Malayan-Mongoloid adalah memiliki kulit kuning langsung hingga kecoklatan serta bermata besar.

#### **Ras Melanesoid**

Biasanya penduduk dengan ras Melanesoid bertempat tinggal di Papua, Maluku, serta Nusa Tenggara Timur. Ciri utama dari ras Melanesoid adalah memiliki kulit yang cenderung hitam serta memiliki berambut keriting.

#### **Ras Asiatic Mongoloid**

Biasanya penduduk dengan ras Asiatic Mongoloid berasal dari Cina, Jepang dan Korea. Ciri utama dari ras Asiatic Mongoloid adalah kulit yang berwarna kuning serta mata sipit.

#### **Ras Kaukasoid**

Biasanya penduduk dengan ras Kaukasoid berasal dari India, Australia, Eropa dan Amerika Serikat. Ciri utama dari ras Kaukasoid adalah warna kulit agak kuning atau putih serta hidung mancung.



Sumber: <https://www.kompas.com/skola/read/2021/01/26/140917469/penyebab-keberagaman-ras?page=all>

19. Berdasarkan wacana di atas, contoh daerah yang penduduknya termasuk ke dalam Ras Melanesoid adalah...
- A. Maluku
  - B. Sulawesi
  - C. Nusa Tenggara Barat
  - D. Nusa Tenggara Timur
20. Berdasarkan wacana di atas, ciri utama yang ada pada ras Malayan-Mongoloid adalah...
- A. Mata sipit
  - B. Bermata besar
  - C. Kulit kuning langsung
  - D. Kulit agak kuning atau putih

### **“Melawan Virus Corona dengan Virus Kebaikan”**

Berbagai studi efek pandemi mencatat merosotnya perekonomian akibat wabah corona. Warga tergerak saling membantu sesama yang terdampak dan berada di garis depan penanganan virus corona. Komunitas Arunika Project, yang merupakan proyek kerjasama mahasiswa Indonesia di Jerman dan di tanah air, misalnya. Tim mereka rutin melakukan pendistribusian bantuan kepada orang-orang yang tidak mampu.

Salah seorang penggagas inisiatif ini, Bulqis Amirah menceritakan, mereka banyak mengerjakan proyek bidang sosial: "Setiap hari Jumat kita selalu bagi-bagi makanan. Jadi kita kumpulkan dana lalu kita beli makanan untuk bapak-bapak gojek lalu ibu-ibu tukang sapu atau penjual-penjual kecil yang mungkin sangat terdampak di pandemi ini.

Selain sumbangan materiil, Arunika Project juga menyediakan dukungan spiritual, untuk menguatkan mental masyarakat di masa pandemi. "Kita spesifiknya menghafal Alquran dan mengulang hafalan Alquran. Jadi kita punya beberapa mentor dari Arunika sendiri untuk membantu menghafal atau mungkin butuh mitra untuk disetor hafalannya. Kita menyediakan platform itu secara online. Jadi bisa daftar lalu nanti dibagi kelompok-kelompoknya," tambah Bulqis.

Dalam penyaluran sumbangan, karena kami di Eropa tak bisa memantau langsung, maka harus mencari mitra yang kredibel. Oleh sebab itu, kini kami benar-benar menyaring mitra yang bisa dipercaya. Untuk membantu korban bencana alam di Nusa Tenggara Timur, kami dibantu oleh mitra para imam Katolik di NTT. Sedangkan untuk di Mamuju, Sulawesi Barat berupa obat-obatan, alat kesehatan, perlengkapan kebersihan dan tenda bagi korban pasca bencana melalui Yayasan Bakti Nusantara Medika (Bakti Med), Doctor Share dan Rumah Sakit Apung dr. Lie Dharmawan," ujar Husni.

Sumber: <https://www.dw.com/id/melawan-virus-corona-dengan-virus-kebaikan/a-57486828>

21. Berdasarkan wacana di atas, bentuk-bentuk kerja sama yang dilakukan Komunitas Arunika Project dalam bidang kehidupan berupa....
- A. Kerjasama dalam bidang sosial
  - B. Kerjasama dalam bidang agama
  - C. Kerjasama dalam bidang keamanan
  - D. Kerjasama dalam bidang pertahanan

22. Berdasarkan wacana di atas, contoh bentuk kerja sama dalam bidang kesehatan antara lain...

- A. Kerjasama dalam pemberian makanan
- B. Kerjasama dalam pemberian obat-obatan
- C. Kerjasama dalam pemberian alat kesehatan
- D. Kerjasama dalam pemberian alat kebersihan

### **“KONI Kabupaten Kediri Siapkan Bonus Peraih Medali Porprov 2022”**



KONI (Komite Olahraga Nasional Indonesia) Kabupaten Kediri menyiapkan bonus besar bagi para atlet peraih medali pada ajang Pekan Olahraga Provinsi (Porprov) Jatim VII Tahun 2022. "Bonus ini merupakan apresiasi kami kepada para atlet berprestasi di ajang Porprov Jatim 2022. Secara nominal, jumlahnya dua kali lipat daripada apresiasi sebelumnya," kata Ketua KONI Kabupaten Kediri, Dedi Kurniawan, di Kediri, Rabu (23/3/2022).

Terkait besaran bonus tersebut, ungkap Dedi, diberikan dengan tujuan agar para atlet maupun pelatih yang berkontribusi dalam Ajang Porprov Jatim 2022 lebih semangat mencetak prestasi terbaiknya. "Untuk anggaran bonus itu, kami ajukan besok rencananya (24/3/2022) ke Pemerintah Kabupaten (Pemkab) Kediri," katanya.

Ia menambahkan, berdasarkan target yang diusung di ajang Porprov kali ini, maka diharapkan kontingen Kabupaten Kediri berada di urutan 10 besar dalam perolehan jumlah medali. "Target kami bisa finish di 10 besar ya, dengan target medali kurang lebih 21 emas, 10 perak dan 10 perunggu," katanya. Namun, lanjut Dedi, jika melihat capaian kontingen Kabupaten Kediri di ajang Porprov ke-VI pada tahun 2019, maka Kabupaten Kediri finish di urutan 17 dalam perebutan perolehan medali dari total 38 peserta yang mengikuti. "Tahun 2019 lalu, Kabupaten Kediri mampu mendapatkan 10 emas, 6 perak dan 8 perunggu," katanya.

Sumber: <https://rri.co.id/surabaya/olahraga/1398850/koni-kabupaten-kediri-siapkan-bonus-peraih-medali-porprov-2022>

23. Berdasarkan wacana di atas, peran daerah Kabupaten Kediri dalam Porprov Jatim VII Tahun 2022 adalah...

- A. Mendapat penghargaan dari masyarakat
- B. Mencapai target di urutan 10 besar medali
- C. Berkontribusi dalam ajang Porprov Jatim 2022
- D. Mencetak prestasi terbaik melalui para atlit dan pelatih

24. Berdasarkan wacana di atas, manfaat adanya pemberian bonus besar dari KONI Kabupaten Kediri bagi peraih medali ialah....

- A. Bentuk apresiasi kepada para atlit berprestasi
- B. Untuk uang saku para atlit dan pelatih saat lomba
- C. Mendapat penghargaan dari masyarakat Kabupaten Kediri
- D. Agar pelatih dan para atlit semangat mencetak prestasi terbaik

25. Berdasarkan wacana di atas, kekurangan target medali yang harus dicapai KONI Kabupaten Kediri dalam ajang Porprov Jatim VII tahun 2022 bila dibandingkan tahun 2019 ialah....
- A. 4 perak
  - B. 21 emas
  - C. 11 emas
  - D. 10 perunggu

### III. Soal Benar - Salah

Jawablah soal nomor 26 sampai dengan 30 di bawah ini, dengan cara memilih jawaban (B) bila Pernyataan benar, dan memilih (S) bila Pernyataan salah.

No	Jawaban	Pernyataan
26.	(B-S)	Struktur masyarakat di Indonesia menurut Syarif Moeis (2008) ditandai dengan dua ciri atau dua titik pandang yaitu secara vertikal dan secara horizontal. Secara vertikal, ditandai oleh kenyataan adanya kesatuan-kesatuan sosial berdasarkan perbedaan - perbedaan suku bangsa, agama, adat dan kedaerahan.
27.	(B-S)	Dalam sosiologi, adanya lapisan dalam masyarakat disebut dengan <i>Social Stratification</i> atau biasa disebut dengan kelas sosial, yaitu adanya perbedaan kelas dalam lapisan masyarakat menyebabkan terjadinya penggolongan kelas-kelas secara bertingkat sehingga kelas tinggi, kelas sedang dan kelas rendah memiliki ketidakseimbangan dalam pembagian hak dan kewajiban secara merata.
28	(B-S)	Perhatikan pernyataan berikut ini! (1) <i>Bhinneka tunggal ika tan hana dharma mangrwa</i> (2) <i>Mangkang Jinatwa kalawan Siwatatwa tunggal</i> (3) <i>Bhinneki rakwa ring apan kena parwanosen</i> (4) <i>Rwaneka dhatu winuwus Buddha Wiswa</i> Di masa Kerajaan Majapahit pada abad XIV, Mpu Tantular menuliskan ungkapan tentang Bhinneka Tunggal Ika dalam Kitab Sutasoma. Urutan yang benar adalah (4), (1), (2), (3)
29.	(B-S)	Bhinneka Tunggal Ika mengandung makna bahwa bangsa Indonesia terdiri atas beraneka ragam suku bangsa, adat istiadat, ras, dan agama. Akan tetapi keseluruhannya bukanlah merupakan satu kesatuan yang utuh dalam bangsa dan negara Indonesia. Hal ini dikarenakan, keberagaman bukanlah unsur persatuan melainkan unsur yang justru menciptakan perpecahan bagi bangsa.
30.	(B-S)	Bagi bangsa Indonesia keberagaman suku bangsa, budaya, agama, ras dan antargolongan merupakan kekayaan bangsa yang sangat berharga. Oleh karena itu, kita bersatu padu dalam perjuangan mengisi kemerdekaan untuk mewujudkan cita-cita negara. Salah satu contoh yang menunjukkan arti penting keberagaman dalam bingkai Bhinneka Tunggal Ika dapat terlihat melalui program pertukaran pelajaran antar daerah.

#### IV. Soal Menjodohkan.

Jawablah soal nomor 31 sampai 35 di bawah ini dengan cara *menjodohkan* dengan pilihan jawaban yang tersedia di kolom sebelah kanan !

No.	Soal	Pilihan Jawaban
31.	Meskipun berbeda-beda suku bangsa, adat istiadat, ras dan agama kita tetap bersatu dalam perjuangan mengisi kemerdekaan untuk mewujudkan cita-cita negeri yang merdeka, bersatu, berdaulat, adil dan makmur. Upaya untuk mempersatukan perbedaan suku, adat istiadat, ras, dan agama untuk menjadi satu yaitu bangsa Indonesia disebut....	A. Kesatuan B. Penindak C. Penangkal D. Persatuan
32.	Setiap warga negara harus melakukan kerja sama untuk mewujudkan keamanan dan pertahanan negara. Salah satu pasal dalam Undang Undang Dasar Negara Republik Indonesia Tahun 1945 berkaitan dengan keamanan dan pertahanan negara adalah...	E. 33 ayat (1) F. 30 ayat (1)
33.	Seperti yang tercantum dalam Pasal 30 Undang-Undang Dasar 1945, tugas dan fungsi TNI merupakan kekuatan utama dari sistem pertahanan dan keamanan rakyat semesta, di mana TNI diposisikan sebagai alat pertahanan negara. Fungsi TNI sebagai tameng terhadap setiap ancaman militer dan ancaman bersenjata dalam pertahanan dan keamanan negara hal ini menunjukkan fungsi TNI sebagai....	G. Bela negara H. Sayuti Melik I. Cinta Tanah Air J. Latif Hendradiningrat
34.	Kesadaran bela negara mengembangkan nilai kenegaraan yang diperuntukkan pada pembangunan Sistem Pertahanan Negara yang terdiri dari 5 (lima) nilai dasar bela negara. Salah satu nilai dasar tersebut ialah nilai....	
35.	Meskipun tidak mendapatkan persetujuan dari Jepang para golongan tua seperti Ir. Soekarno, Drs. Moh Hatta dan Achmad Subardjo tetap merumuskan teks proklamasi dengan tulisan tangan sendiri. Siapakah tokoh yang bertugas mengetik teks proklamasi tersebut....	

## V. Soal Uraian Obyektif

Jawablah soal-soal di bawah ini dengan tepat, singkat dan jelas!

36. Perumusan teks proklamasi terjadi setelah Ir. Soekarno dan Mohammad Hatta dikembalikan ke Jakarta pada 16 Agustus 1945. Sesuai peristiwa tersebut, baik golongan muda maupun golongan tua sepakat agar proklamasi segera disusun dan diumumkan kemerdekaan Indonesia.

Tempat yang digunakan untuk menyusun naskah proklamasi kemerdekaan Indonesia adalah dikediaman....

37. Perhatikan gambar tokoh dibawah ini!

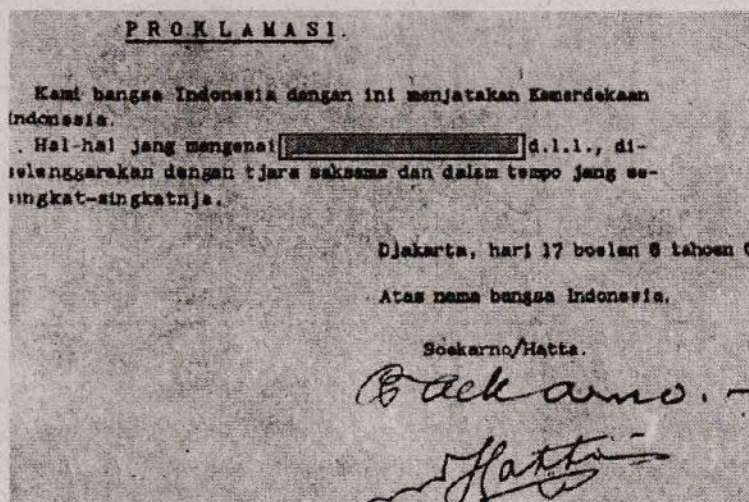


Pada proses perumusan teks proklamasi kemerdekaan Indonesia, Achmad Subardjo merumuskan kalimat pertama teks proklamasi, sedangkan kalimat kedua dirumuskan oleh Ir. Soekarno. Selanjutnya kedua kalimat tersebut digabung dan disempurnakan sehingga berbunyi seperti teks proklamasi yang kita miliki sekarang.

Gambar di samping adalah tokoh yang berperan dalam menggabungkan dan menyempurnakan teks proklamasi, beliau adalah....

38. Cermati foto teks proklamasi berikut ini!

Teks Proklamasi adalah naskah teks pernyataan kemerdekaan bangsa Indonesia yang diketik dengan mesin ketik stensil di atas kertas dengan tinta berwarna hitam yang kemudian ditandatangani oleh Soekarno dan Mohammad Hatta. Teks proklamasi terdiri dari 2 (dua) kalimat yaitu kalimat pertama dan kalimat kedua.



Teks rumpang pada kalimat kedua naskah proklamasi tersebut berbunyi....

39. Proklamasi kemerdekaan bagi bangsa Indonesia memiliki makna bahwa bangsa Indonesia sebagai bangsa yang berdaulat dan mempunyai kedudukan sejajar dengan bangsa-bangsa lain di dunia.

Pernyataan tersebut adalah makna proklamasi yang ditinjau dari aspek....

40. Proklamasi yang diperoleh merupakan berkat rahmat Tuhan Yang Maha Esa yang meridhai perjuangan rakyat Indonesia melawan penjajah. Kemerdekaan bangsa Indonesia tidak terlepas dari doa seluruh rakyat Indonesia kepada Yang Maha Kuasa untuk segera terlepas dari penjajahan.

Pernyataan tersebut adalah makna proklamasi yang ditinjau dari aspek....

---Teliti kembali sebelum diserahkan pengawas ruang semoga sukses---