



PEMERINTAH KABUPATEN KEDIRI
DINAS PENDIDIKAN
UPTD SMP NEGERI 2 TAROKAN
PENILAIAN AKHIR TAHUN (PAT)
TAHUN PELAJARAN 2021 / 2022

PETUNJUK UMUM

1. Periksalah Naskah Soal yang Anda terima sebelum mengerjakan soal yang meliputi :
 - a. Kelengkapan jumlah halaman dan urutannya.
 - b. Kelengkapan nomor soal dan urutannya.
 - c. Kesesuaian Mata Pelajaran yang di ujikan dengan Mata Pelajaran yang tertera pada Naskah maupun Lembar Jawab.
 - d. Jumlah soal setiap mapel 40 soal, terdiri PG 15 soal, PGK 10 soal, BS 5 soal, menjodohkan 5 soal, Uraian 5 Soal kecuali IPA dan MATEMATIKA 30 soal, terdiri PG 10 soal, PGK 5 soal, BS 5 soal, menjodohkan 5 soal, Uraian 5 soal.
2. Laporkan Kepada pegawai ruang apabila terdapat naskah soal yang tidak lengkap, tidak urut, Lembar Jawaban yang rusak dan minta gantinya!
3. Gunakan pensil 2B untuk mengisi lembar jawaban dengan ketentuan sebagai berikut :
 - a. Tuliskan Nama Anda pada kolom yang disediakan.
 - b. Tuliskan Nomor Peserta PENILAIAN AKHIR TAHUN pada kolom yang disediakan!
 - c. Tuliskan Kelas / No. Presensi, pada kolom yang disediakan!
 - d. Tulislah Nama Sekolah pada kolom yang disediakan!
4. Jika terjadi kesalahan dalam memberi tanda silang (x) atau centang (✓), hapus sebersih mungkin dengan karet penghapus kemudian diganti yang menurut anda benar.
5. Saat mengikuti PAT dilarang membawa dan menggunakan HP, Kalkulator, Tabel, maupun alat bantu hitung lainnya.
6. Periksa kembali pekerjaan Anda sebelum diserahkan pengawas ujian!
7. Lembar Jawaban tidak boleh dicorat – coret.
8. Berdo'alah sebelum mengerjakan soal!
9. Kerjakan dengan jujur, karena kejujuran adalah cermin akhlaq mulia!
10. Gunakan waktu yang terjadwal dengan sebaik-baiknya agar diperoleh hasil yang maksimal!

SELAMAT MENGERJAKAN SEMOGA SUKSES



PEMERINTAH KABUPATEN KEDIRI
DINAS PENDIDIKAN
UPTD SMP NEGERI
PENILAIAN AKHIR TAHUN (PAT)
TAHUN PELAJARAN 2021/2022

Mata Pelajaran : IPS
Kelas/Semester : VII / 2

Hari, Tanggal : Kamis, 9 Juni 2022
Waktu : 90 menit

I. Pilihlah salah satu jawaban yang benar!

Bacalah teks di bawah ini dengan cermat!

Kelangkaan BBM di Sumatera Utara



MEDAN, KOMPAS.com - Terkait kelangkaan bahan Bakar Minyak (BBM) di luar Pulau Jawa terutama di Sumatera Utara, Gubernur Sumatera Utara Edy Rahmayadi memanggil PT Pertamina Patra Niaga Regional Sumbagut, Kamis (21/10/2021). Executive General Manager PT Pertamina Patra Niaga Regional Sumbagut Asep Wicaksono mengatakan, pihaknya memberi sejumlah penjelasan penting yang ditanyakan Gubernur Edy.

Pertama, terkait antrean. Sudah kami sampaikan bahwa (masalah kelangkaan) karena antrean," kata Asep dilansir Kompas.com, Kamis (21/10/2021). Pihak Pertamina mengakui telah terjadi kekurangan stok BBM di wilayah Sumatera Utara, terutama jenis Solar dan Pertamax. Salah satu penyebab kekurangan stok bahan bakar minyak di wilayah tersebut yakni kuota solar subsidi yang jumlahnya terbatas. Menjelang akhir tahun, kuota subsidi untuk solar memang semakin "mepet" sehingga Pertamina bekerja ekstra untuk menjaga pasokan di lapangan.

<https://otomotif.kompas.com/read/2021/10/21/141200215/pertamina-jelaskan-penyebab-kelangkaan-bbm-di-sumut>

1. Yang bukan merupakan penyebab kelangkaan BBM di luar Pulau Jawa yaitu di wilayah Sumatera Utara, terutama jenis Solar dan Pertamax adalah...
 - A. terjadi kekurangan stok BBM
 - B. kuota subsidi untuk solar semakin mepet
 - C. kuota solar subsidi yang jumlahnya terbatas
 - D. Pertamina bekerja ekstra untuk menjaga pasokan di lapangan

Bacalah teks di bawah ini dengan cermat!

Daftar Harga Kebutuhan Pokok Sehari-hari yang Naik di tahun 2022

Selain harga LPG dan BBM nonsubsidi, masyarakat sudah harus merasakan kenaikan harga pangan. Mulai dari minyak goreng, tempe, daging dan lainnya.

Adapun penyebab kenaikan antara lain imbas kapasitas produksi dan distribusi yang terbatas untuk komoditas yang dengan tingkat produksi dalam negeri cukup besar.

Sementara itu, untuk komoditas yang cukup bergantung pada bahan baku impor, seperti daging, gula dan kedelai, ini dipengaruhi pasokan internasional. Sehingga harga di dalam negeri juga dipengaruhi fluktuasi harga dan *supply chain* global.

Dari catatan, kenaikan harga minyak goreng mendorong pemerintah mengambil berbagai langkah. Seperti menetapkan harga eceran tertinggi (HET) hingga menggelar operasi pasar.

Dilansir dari laman *hargapangan.id*, Selasa (1/3/2022) harga minyak goreng di Provinsi Sumatera Utara dibanderol mulai Rp 25.700,00

Harga minyak goreng tertinggi kedua berada di Provinsi Maluku Utara sebesar Rp 23.000,00 disusul oleh Nusa Tenggara Timur (NTT) seharga Rp 20.500.00

Di Papua, minyak goreng dibanderol mulai Rp 20.200,00 sementara di Provinsi Provinsi Nusa Tenggara Barat (NTB) seharga Rp 19.350.00

<https://www.liputan6.com/bisnis/read/4900097/daftar-harga-kebutuhan-pokok-sehari-hari-yang-naik-di-2022-beban-kian-berat>

2. Penyebab kenaikan harga pangan dan kebutuhan pokok masyarakat di tahun 2022 adalah
 - A. penetapan harga eceran tertinggi (HET)
 - B. kapasitas produksi dan distribusi yang terbatas
 - C. pemerintah sering menggelar operasi pasar
 - D. harga pangan yang semakin fluktuatif
3. Perhatikan penerapan prinsip ekonomi berikut ini!
 - 1) Meningkatkan mutu atau kualitas barang/jasa yang dihasilkan
 - 2) Menekan biaya produksi barang/jasa hingga serendah mungkin
 - 3) Menentukan barang atau jasa yang akan dihasilkan sesuai kebutuhan masyarakat.
 - 4) Memilih barang atau jasa dengan tepat sesuai kebutuhan
 - 5) Membuat penawaran serendah mungkin untuk mendapat harga termurah
 - 6) Menyesuaikan pengeluaran dengan pendapatan.

Penerapan prinsip ekonomi untuk kegiatan konsumsi ditunjukkan oleh nomor... .

 - A. 1), 2) dan 4
 - B. 2), 3) dan 5
 - C. 3), 5) dan 6
 - D. 4), 5) dan 6

4. Perhatikan data berikut!

- 1) Harga barang
- 2) Selera masyarakat
- 3) Kebutuhan masyarakat
- 4) Kualitas barang
- 5) Biaya produksi
- 6) Teknologi
- 7) Faktor-faktor non ekonomi
- 8) Harapan mendapatkan laba

Jumlah barang yang ingin dibeli oleh masyarakat dengan berbagai tingkat harga tertentu disebut dengan permintaan. Kemampuan manusia untuk melakukan permintaan terhadap barang dan jasa sangatlah terbatas yang disebabkan oleh faktor-faktor tertentu. Dari data diatas faktor-faktor yang mempengaruhi permintaan ditunjukkan oleh angka

- A. 1), 2), 3) dan 4)
 - B. 2), 4), 6) dan 8)
 - C. 3), 4), 5) dan 6)
 - D. 5), 6), 7) dan 8)
5. Friska memiliki uang yang besarnya cukup untuk membeli sebuah sepeda baru, tetapi saat ini Friska belum berniat membelanjakan uangnya untuk membeli sepeda baru. Ilustrasi ini termasuk dalam jenis permintaan
- A. efektif
 - B. non efektif
 - C. potensial
 - D. absolut.
6. Untuk memenuhi kebutuhan akan permintaan barang dan jasa masyarakat diperlukan kesediaan produsen dalam memproduksi berbagai barang pada tingkat harga, yang disebut sebagai penawaran. Produsen berusaha memproduksi berbagai jenis barang dan jasa untuk memenuhi kebutuhan konsumen. Semua barang dan jasa yang dihasilkan tersebut untuk kemudian ditawarkan kepada konsumen. Orang yang menawarkan ini disebut
- A. manager
 - B. pedagang
 - C. pemakai
 - D. tengkulak
7. Sarana bertemunya penjual dan pembeli, baik secara langsung maupun tidak langsung untuk melakukan jual beli atau proses terjadinya interaksi antara penjual dan pembeli untuk mencapai kesepakatan harga dan jumlah barang atau jasa yang diperjualbelikan disebut
- A. Grosir
 - B. Warung
 - C. Kios
 - D. Pasar
8. Di daerah Pak Priono tinggal terdapat banyak pengangguran. Pak Priono berinisiatif untuk membuat usaha bank sampah dan mempekerjakan masyarakat sekitarnya agar tidak menganggur lagi. Tindakan Pak Priono tersebut merupakan ciri dari manusia wirausaha
- A. memiliki kemampuan menambah pendapatan nasional
 - B. menemukan solusi untuk menambah kekayaan
 - C. memiliki kepekaan terhadap arti lingkungan
 - D. memiliki sikap berani mengambil resiko

9. Perhatikan peran pasar berikut!
- 1) Mempermudah konsumen memperoleh barang konsumsi
 - 2) Membentuk terciptanya harga barang yang stabil
 - 3) Mempertahankan keuntungan dari penjualan produk
 - 4) Memberdayakan sumber daya manusia
 - 5) Memperkenalkan hasil produksi kepada masyarakat
- Peranan pasar dalam kegiatan distribusi ditunjukkan nomor
- A. 1, 2 dan 3
 - B. 1, 2 dan 4
 - C. 2, 3 dan 5
 - D. 2, 4 dan 5
10. Proses perubahan bumi terbagi atas beberapa fase-fase atau zaman. Perubahan dari satu zaman ke zaman berikutnya memakan waktu yang lama, sampai jutaan tahun. Periodisasi sejarah perkembangan bumi secara geologis mulai dari yang tertua ditunjukkan
- A. Paleozoikum – Mesozoikum – Neozoikum – Arkaikum
 - B. Arkaikum – Paleozoikum – Mesozoikum – Neozoikum
 - C. Mesozoikum – Arkaikum – Neozoikum – Paleozoikum
 - D. Neozoikum – Arkaikum – Neozoikum – Paleozoikum
11. Perhatikan ciri kehidupan berikut!
- 1) mampu membuat alat-alat dari tulang
 - 2) mengenal sistem barter
 - 3) mengenal teknik berhuma
 - 4) muncul golongan undagi
- Ciri kehidupan masyarakat pada masa bercocok tanam ditunjukkan oleh kombinasi
- A. 1) dan 3)
 - B. 1) dan 4)
 - C. 2) dan 3)
 - D. 2) dan 4)
12. Bangunan candi dan stupa yang merupakan cerminan kondisi kehidupan sosial masyarakat masa Hindu-Budha di Indonesia, adalah merupakan wujud akulturasi antara pengetahuan keagamaan Hindu dan Budha dengan bangunan asli Indonesia, yaitu... .
- A. Menhir
 - B. Dolmen
 - C. Sarkofagus
 - D. Punden berundak
13. Perhatikan nama candi berikut!
- 1) Candi Kalasan
 - 2) Candi Prambanan
 - 3) Candi Borobudur
 - 4) Candi Jago
 - 5) Candi Penataran
- Dari daftar candi-candi di atas, candi yang bercorak Budha ditunjukkan oleh angka... .
- A. 1) dan 2)
 - B. 1) dan 3)
 - C. 2) dan 4)
 - D. 3) dan 5)

14. Perhatikan bukti sejarah berikut!
- 1) batu nisan Fatimah Binti Maimun
 - 2) batu nisan Sultan Malik al-Saleh
 - 3) catatan perjalanan Cheng Ho
 - 4) catatan perjalanan Marcopolo

Bukti sejarah yang mendukung masuk dan berkembangnya Islam di Indonesia pada abad ke-13 ditunjukkan oleh....

- A. 1) dan 2)
 - B. 1) dan 3)
 - C. 2) dan 4)
 - D. 3) dan 4)
15. Kerajaan Islam pertama di pulau Jawa masih mempunyai kekerabatan dengan kerajaan Majapahit hal tersebut dapat diketahui dari....
- A. Sultan Trenggana adalah putra dari raja Hayam Wuruk
 - B. penguasa Majapahit adalah keturunan penguasa Demak
 - C. Sultan agung merupakan keturunan penguasaan Majapahit
 - D. Raden Patah merupakan keturunan raja Brawijaya V

II. Soal no. 16 s/d 25 pilihlah 2 (dua) jawaban yang benar!

16. Perhatikan contoh skala prioritas kebutuhan seorang petani berikut ini!

Kebutuhan seorang petani	Setelah di urutkan berdasarkan kebutuhan
• Upah	1) Alat pertanian
• Perluasan lahan	2) Bibit unggul
• Obat-obatan	3) Pupuk
• Alat pertanian	4) Obat-obatan
• Pupuk	5) Upah
• Bibit unggul	6) Perluasan lahan

Berikut merupakan kesimpulan yang benar dari contoh skala prioritas di atas adalah ...

- A. alat pertanian menjadi faktor yang utama dalam kebutuhan seorang petani
- B. pupuk dan obat-obatan menjadi faktor penting lainnya setelah bibit unggul
- C. upah menjadi prioritas utama dalam kebutuhan seorang petani
- D. perluasan lahan menjadi faktor terpenting kedua setelah upah

17. Perhatikan tabel jenis barang dan alat pemuas kebutuhan berikut ini!

No.	Jenis Barang	Contoh Alat Pemuas Kebutuhan
1	Barang substitusi	Mobil pribadi dan bus tras Jakarta
2	Barang substitusi	Gula tebu dan gula aren
3	Barang substitusi	Teh dan gula
4	Barang komplementer	Bus dan solar
5	Barang komplementer	Minyak tanah dan gas

Pasangan yang tepat antara jenis barang dengan alat pemuas kebutuhan, ditunjukkan oleh nomor

- A. 1 dan 2
- B. 2 dan 3
- C. 2 dan 4
- D. 4 dan 5

18. Perhatikan tabel kegiatan ekonomi yang dilakukan oleh manusia berikut ini!

No.	Kegiatan Ekonomi	Jenis Kegiatan Ekonomi
1.	Membeli jajan di kantin sekolah	
2.	Menggunakan aplikasi online untuk memesan pakaian	
3.	Membuat tas dari kulit hewan	
4.	Menggunakan sepatu olahraga	
5.	Pedagang bakso menawarkan dagangannya	
6.	Membeli elektronik di toko elektronik	
7.	Petani mengolah sawah untuk menanam padi	
8.	Membuat kerajinan tangan dari barang bekas	
9.	Peternak ikan mempromosikan sendiri hasil panennya	
10.	Pengiriman meubel menggunakan jasa ekspedisi	

Dari tabel di atas yang merupakan kegiatan Produksi dan Distribusi ditunjukkan oleh nomor

- A. 1, 3 dan 6
- B. 3, 7 dan 8
- C. 2, 4 dan 9
- D. 5, 9 dan 10

19. Perhatikan infografis berikut!



Sumber: <https://www.inews.id/multimedia/infografis/infografis-singkong-beku-indonesia-jadi-cemilan-premium-di-eropa>

Berdasarkan teks diatas ekspor singkong dari tahun 2019 sampai tahun 2020 mengalami peningkatan sebagai berikut!

- A. 10,700 ton
- B. 11,700 ton
- C. Nilai 5,6 juta dollar AS
- D. Nilai 6,5 juta dollar AS

20. Berdasarkan infografis diatas Singkong beku Indonesia mampu menembus pasar global, bahkan telah menjadi bahan baku cemilan premium di Eropa dan Amerika Serikat. Premium pada kalimat tersebut menunjukkan bahwa Singkong beku Indonesia di Eropa dan Amerika Serikat ...

- A. Mempunyai kualitas yang tinggi
- B. Mempunyai harga yang tinggi
- C. Mempunyai pasar yang tinggi
- D. Mempunyai nilai yang tinggi

21. Perhatikan pernyataan berikut!


- 1) Tersedianya sumber daya alam
- 2) Perbedaan letak geografis
- 3) Keinginan memiliki barang rendah
- 4) Pertumbuhan penduduk yang cepat

Dari pernyataan diatas penyebab kelangkaan ditunjukkan ...

- A. 1
- B. 2
- C. 3
- D. 4

22. Perhatikan gambar!


1.



3.



2.



4.



Pada gambar diatas Nekara dan Menhir ditunjukkan ...

- A. 1
- B. 2
- C. 3
- D. 4

KOMPAS.com - Ajaran Hindu-Buddha ada di Nusantara sebelum adanya agama-agama lain. Hindu dan Buddha menjadi agama resmi beberapa kerajaan terbesar Nusantara. Peninggalan yang bercorak Hindu-Buddha umumnya berupa prasasti, candi, kiktab, dan arca. Berikut merupakan peninggalan-peninggalan sejarah Hindu-Buddha yang tersebar di berbagai wilayah Indonesia:

Prasasti (batu tertulis) Dikutip situs Kementerian Pendidikan dan Kebudayaan (Kemendikbud), setiap kerajaan bercorak Hindu-Buddha yang berdiri dan berkembang di Indonesia diketahui keberadaanya lewat prasasti atau batu tertulis. Prasasti-prasasti tersebut tertulis dengan huruf Pallawa dalam bahasa sansekerta, bahasa Jawa kuno dan bahasa Melayu kuno. Prasasti merupakan sebuah dokumen atau piagam yang tertulis pada batu, tembaga, dan sebagainya. Baca juga: Perkembangan Agama Hindu-Buddha di Nusantara Contoh prasasti tersebut adalah: Prasasti huruf pallawa bahasa Sansakerta Yupa, prasasti Muarakaman (Kerajaan Kutai) Prasasti Ciaruteun, Kebon Kopi, Jambu, Pasir Awi, Tugu, Cidanghiang (Kerajaan Tarumanegara) Prasasti Tuk Mas (Kerajaan Holing) Prasasti Canggal, Mantyasih, Wanua Tengah III, Sojomerto, Sangkhara, Kalasan, Klurak (Kerajaan Mataram Kuno).

Candi Dalam Kamus Besar Bahasa Indonesia (KBBI), candi adalah bangunan kuno yang dibuat dari batu. Di masa lampau, candi difungsikan sebagai tempat pemujaan, penyimpanan abu jenazah raja-raja, serta pendeta-pendeta Hindu dan Buddha. Istilah candi berasal dari salah satu nama untuk Dewi Durga (dewi maut) yaitu Candika. Inilah mengapa candi berfungsi sebagai tempat untuk memuliakan raja yang telah meninggal. Tapi, candi tidak menyimpan mayat atau abu jenazah. Candi hanya menyimpan benda-benda seperti potongan logam, batu-batuan, dan sesaji. Barang-barang itu ditaruh pada wadah atau pripih. Pripih itulah yang ditanam di dasar candi. Pada agama Hindu, candi berfungsi sebagai

makam. Sementara bagi agama Buddha, candi memiliki tempat untuk pemujaan dan tidak ada piri. Di dalam candi Buddha tidak ada arca yang jadi perwujudan Dewa.,

Kitab Kitab juga merupakan salah satu peninggalan sejarah Hindu-Buddha yang amat penting. Kitab ini memuat tarikh atau riwayat kerajaan yang menjadi sumber sejarah yang kita kenal hari ini. Berikut beberapa kitab yang merupakan peninggalan sejarah Hindu-Buddha: Kerajaan Kediri Pada masa Kerajaan Kediri adalah Bratayudha (Mpu Panuluh dan Mpu Sedah), Arjuna Wiwaha (Mpu Kanwa), Smaradhahana (Mpu Darmaja), Writasanjaya dan Lubdhaka (Mpu Tanakung), Kresnayana, Bhomakavya. Kerajaan Majapahit Masa Kerajaan Majapahit ada Pararaton (berisi riwayat raja-raja Singosari dan Majapahit) , Negara Kertagama (Mpu Prapanca), Sutasoma dan Arjunawijaya (Mpu Tantular). Kemudian ada Sorandaka (cerita pemberontakan Sora), Ranggalawe (cerita pemberontakan Ranggalawe), Panjiwijayakrama (cerita riwayat Raden Wijaya) dan Usana Jawa (cerita penaklukan Bali oleh Gajah Mada).

Sumber: <https://www.kompas.com/skola/read/2020/05/22/164500669/peninggalan-sejarah-hindu-buddha-di-indonesia?page=all>

23. Berdasarkan teks di atas, kitab sastra peninggalan kerajaan Kediri adalah... .
- A. kitab Bharatayudha
 - B. kitab Arjuna wiwaha
 - C. Kitab Pararaton
 - D. Kitab Negara Kertagama
24. Merujuk dari bacaan di atas, prasasti peninggalan kerajaan Taruma Negara adalah... .
- A. Prasasti Canggal
 - B. Prasasti Kebon kopi
 - C. Prasasti Jambu
 - D. Prasasti Kalasan
25. Berdasarkan bacaan di atas fungsi candi adalah untuk menyimpan... .
- A. jenazah raja
 - B. kekayaan seorang raja
 - C. potongan logam
 - D. batu-batuan.

III. Pilihlah Benar / Salah pernyataan berikut!

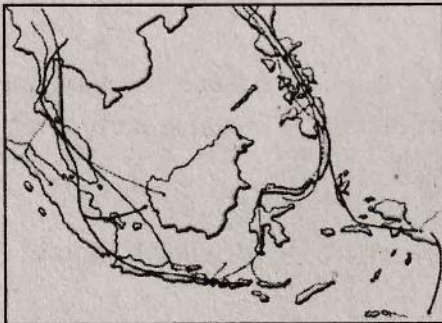
26. (B – S) *Barang-barang yang dapat digunakan secara langsung untuk memenuhi kebutuhan manusia disebut dengan barang konsumsi. Dalam kehidupan sehari-hari barang konsumsi disebut juga barang jadi atau siap pakai karena telah melalui proses produksi dan siap dipasarkan.*
27. (B – S) *IPTEK dapat menunjang kegiatan produksi terutama kebutuhan akan mesin-mesin produksi, bahan baku untuk produksi, dan bahan penolong untuk produksi.*
28. (B – S) *IPTEK dapat memberikan kemudahan distribusi barang, dapat memperlancar distribusi barang, dan mempercepat barang sampai ke tangan konsumen hanya melalui jasa pengiriman barang kantor pos saja.*
29. (B – S) *Periode dalam kehidupan manusia Masa Praaksara dimulai sejak manusia ada sampai manusia mengenal tulisan.*
30. (B – S) *Salah satu bukti yang menunjukkan masuknya pengaruh Islam sebagai akibat proses perdagangan Internasional ditunjukkan oleh letak kerajaan-kerajaan Islam pada umumnya berada di daerah aliran sungai.*

III. Jodohkan pernyataan sebelah kiri dengan jawaban yang benar di sebelah kanan!

- | | |
|---|---|
| 31. Nilai guna suatu barang akan bertambah kalau barang tersebut digunakan pada saat yang tepat. Misalnya, jaket digunakan pada saat kita kedinginan, payung kita gunakan pada saat hujan atau panas. Nilai guna barang tersebut akan bertambah kalau kita menggunakan pada saat kita membutuhkan. Nilai barang tersebut bertambah karena mempunyai nilai guna | A. harga keseimbangan
B. akulturasi
C. harga pasti
D. tempat
E. Kebudayaan
F. waktu
G. Inovasi
H. Kreatifitas
I. perkembangan IPTEK
J. Perkembangan Usia |
| 32. Harga pasar ialah harga yang disepakati pihak penjual dan pembeli, dan pada harga ini barang yang diminta sama dengan jumlah barang yang ditawarkan. Harga pasar disebut juga dengan | |
| 33. Siswa setiap saat hanya memegang HP dan menggunakannya untuk memuaskan diri hanya untuk mendapatkan hiburan dan melupakan kewajibannya sebagai siswa untuk belajar. Ini merupakan dampak negatif dari adanya | |
| 34. Kemampuan seseorang untuk melahirkan sesuatu yang baru baik berupa gagasan maupun karya nyata yang relatif berbeda dengan yang ada sebelumnya | |
| 35. Didalam kehidupan masyarakat masih banyak kita lihat perayaan tradisi Jawa namun dalam pelaksanaannya memakai doa-doa Islam, hal tersebut menunjukkan adanya | |

III. Jawablah pertanyaan berikut dengan singkat dan benar!

36. Setiap orang memiliki perbedaan dengan orang lain, salah satunya adalah dalam hal konsumsi makanan atau dalam memenuhi kebutuhannya. Ervina lebih suka soto dibandingkan dengan Fanesya yang lebih menyukai bakso. Hal ini menunjukkan perbedaan
37. Siswa SMP di Kabupaten Kediri mengumpulkan sumbangan untuk dikirimkan kepada saudara-saudaranya yang sedang mengalami musibah erupsi Gunung Semeru di Lumajang. Tindakan ini merupakan salah satu motif ekonomi yaitu
38. Terbatasnya sumber daya mendorong manusia melakukan segala usaha agar kelangkaan bisa memenuhi kebutuhan hidup serta berpengaruh pada penawaran dan permintaan terhadap barang dan jasa. Untuk mengatasi kelebihan penawaran pada daerah yang kelebihan sumber daya dan kekurangan pada daerah yang kurang sumber daya, maka dapat dilakukan
39. Perhatikan Peta!



Peta diatas merupakan peta jalur kedatangan nenek moyang Indonesia dari jalur barat dan timur yaitu Ras dan Ras

40. Menurut Bosch, yang pertama kali datang ke Indonesia adalah orang-orang India yang memiliki semangat untuk menyebarkan agama Hindu-Budha. Setelah tiba di Indonesia mereka menyebarkan ajarannya. Banyak tokoh masyarakat yang tertarik untuk mengikuti ajarannya. Pada perkembangan selanjutnya banyak orang Indonesia sendiri yang pergi ke India untuk berziarah dan belajar agama Hindu-Budha di India. Sekembalinya di Indonesia, merekalah yang mengajarkannya pada masyarakat Indonesia yang lain. Pendapat F. D. K Bosch ini dikenal dengan teori